

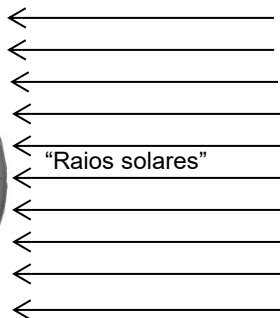


Questão 2) (1 ponto) A Terra gira ao redor do Sol num movimento chamado de translação, com órbita de forma elíptica. Abaixo está o tradicional modelo do planeta Terra montado num suporte e ao lado dele o Sol (desenhado esquematicamente e fora de escala) e os “raios solares”.

Pergunta 2a) (0,5 ponto) Desenhe no quadrado à direita o mesmo “globo terrestre”, mas supondo que ele esteja numa posição da órbita separado de 6 meses do “globo” da esquerda.



2a)


Nota obtida: _____

Pergunta 2b) (0,1 ponto) Desenhe sobre o globo da esquerda o eixo de rotação da Terra (faça uma reta contínua).

2b) - Nota obtida: _____

Pergunta 2c) (0,1 ponto) Desenhe sobre o globo da esquerda uma reta perpendicular ao plano da sua órbita (faça uma reta pontilhada) passando pelo centro do globo.

2c) - Nota obtida: _____

Pergunta 2d) (0,1 ponto) Desenhe sobre o globo da esquerda uma seta curva  indicando o seu sentido de rotação.

2d) - Nota obtida: _____

Pergunta 2e) (0,1 ponto) Qual é o ângulo entre as retas contínua e a pontilhada pedidas acima?

Resposta 2e): graus

2e) - Nota obtida: _____

Pergunta 2f) (0,1 ponto) Qual é o ângulo entre o plano da órbita da Terra e o do seu equador?

Resposta 2f): graus

2f) - Nota obtida: _____

Questão 3) (1 ponto) (0,2 cada acerto) Usando o globo terrestre já desenhado no enunciado da Questão 2, na posição mostrada em relação ao Sol, responda às perguntas abaixo.

Pergunta 3a) Qual dos Hemisférios (Norte ou Sul) está recebendo mais luz?

Resposta 3a):

3a) - Nota obtida: _____

Pergunta 3b) Qual é a estação do ano no Hemisfério Norte?

Resposta 3b):

3b) - Nota obtida: _____

Pergunta 3c) Qual dos Polos Geográficos (Norte ou Sul) tem noite de 24 horas?

Resposta 3c):

3c) - Nota obtida: _____

Pergunta 3d) Em qual dos Hemisférios (Norte ou Sul) a duração da noite é mais curta?

Resposta 3d):

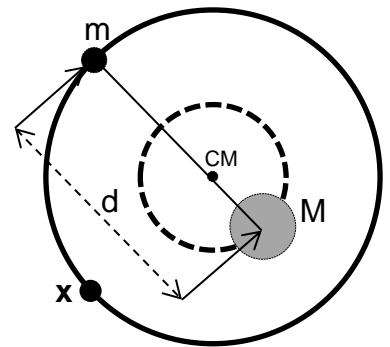
3d) - Nota obtida: _____

Pergunta 3e) Supondo que “um dos raios solares” esteja incidindo perpendicularmente ao Trópico de Capricórnio, neste dia, neste Hemisfério, está ocorrendo um Solstício de Verão, Solstício de Inverno, Equinócio de Outono ou Equinócio de Primavera?

Resposta 3e):

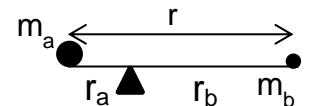
3e) - Nota obtida: _____

Questão 4) (1 ponto) Existem alguns métodos para identificar planetas extrassolares, todos com suas limitações, claro. Um deles é o da detecção da variação da velocidade radial da estrela, devido à presença de um planeta ao seu redor. Ou seja, quando o plano da órbita do planeta extrassolar está na direção da linha de visada da Terra, a estrela ora se aproxima e ora se afasta de nós. Esta oscilação pode ser observada no seu espectro e com isso pode-se determinar a massa do planeta que esta estrela possui. Esta oscilação ocorre porque ambos (estrela e planeta) giram em torno do centro de massa (CM) ou baricentro do sistema. Na figura ao lado representamos a estrela **51 Pegasi**, da constelação de Pégaso, de magnitude aparente 5,5, distante 51 anos-luz, de massa $M = 2,2 \times 10^{30}$ kg e sua órbita, quase circular (linha tracejada) e seu planeta chamado **51 Pegasi b**, com período orbital de 4,2 dias, de massa $m = 9,5 \times 10^{26}$ kg e sua órbita (também quase circular). Note que: $M = 2.316m$. Os centros de massa da estrela e do planeta estão separados, em média, pela distância $d = 8 \times 10^6$ km.



Pergunta 4a) (0,5 ponto) Qual é a distância do centro da **51 Pegasi** ao baricentro do sistema? Vamos ajudar. Você sabe que quando está numa gangorra e do outro lado está alguém mais pesado que você, ele precisa ficar mais perto do centro da gangorra e você mais longe do centro dela, se desejarem, por exemplo, deixar a gangorra parada com ambos equilibrados na horizontal. Existe uma equação que relaciona suas massas (m_a e m_b) e respectivas distâncias (r_a e r_b) ao centro da gangorra para que ela fique em equilíbrio: $m_a r_a = m_b r_b$. Já entendeu, certo? É só colocar estrela e planeta na gangorra.

Resolução 4a):



Resposta 4a):..... km

4a) - Nota obtida: _____

Pergunta 4b)(0,25 ponto) O período orbital de **51 Pegasi b** é de 4,2 dias. Qual é o período orbital de **51 Pegasi**?

Obs. Não precisa fazer nenhuma conta.

Resposta 4b):..... dias

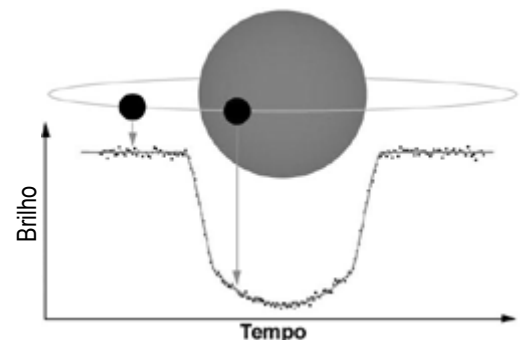
4b) - Nota obtida: _____

Pergunta 4c)(0,25 ponto) Faça um **X** no círculo tracejado onde estará **51 Pegasi** quando **51 Pegasi b** estiver na posição **X** indicada na figura acima. *Obs. Claro que também não precisa fazer nenhuma conta.*

Resposta 4c):.....

4c) - Nota obtida: _____

Questão 5) (1 ponto) Outro método usado para detectar planetas extrassolares é conhecido pelo nome de método de trânsito planetário. Como as estrelas são muito maiores do que os planetas e emitem luz, o brilho da estrela fica ligeiramente reduzido pelo bloqueio que o disco do planeta causa durante o seu trânsito, como ilustra a figura ao lado. Cerca de 75% dos planetas extrassolares descobertos até o momento (cerca de 3.600) o foram por este método. Em fevereiro de 2017 foi anunciada a descoberta, pelo método do trânsito, do sistema planetário extrassolar TRAPPIST-1 com sete planetas, tipo terrestre, ao seu redor, sendo 4 de tamanho similar à Terra e três deles dentro da chamada zona de habitabilidade. Todos os planetas, incluindo os extrassolares, devem obedecer à terceira lei de Kepler, a qual é dada por:



$$\frac{T^2}{D^3} = \frac{4\pi^2}{G(M + m)} = K$$

onde T é o período do planeta, D sua distância média à estrela, M a massa da estrela, m a massa do planeta, $\pi \cong 3,14$, $G = 6,67 \times 10^{-11} \text{kg}^{-1} \text{m}^3 \text{s}^{-2}$ e K é a constante de Kepler.

Pergunta 5a) (0,5 ponto) Chamando K_S para o Sistema Solar e K_T para o Sistema Trappist-1, calcule a razão entre K_S e K_T , ou seja, calcule $\frac{K_S}{K_T}$.

Dados: O período orbital da Terra (T) é de 360 dias (para simplificar as contas) e sua distância média ao Sol (D) é de 1 UA (Unidade Astronômica). O período orbital do planeta “d” (T_d) de Trappist-1 é de 4 dias e sua distância média a Trappist-1 (D_d) é de 0,02 UA. Como estrelas têm muito mais massa que planetas, despreze m na Lei de Kepler. Use M_S para a massa do Sol e M_T para a massa de Trappist-1.

Resolução 5a):

Resposta 5a):.....

5a) - Nota obtida: _____

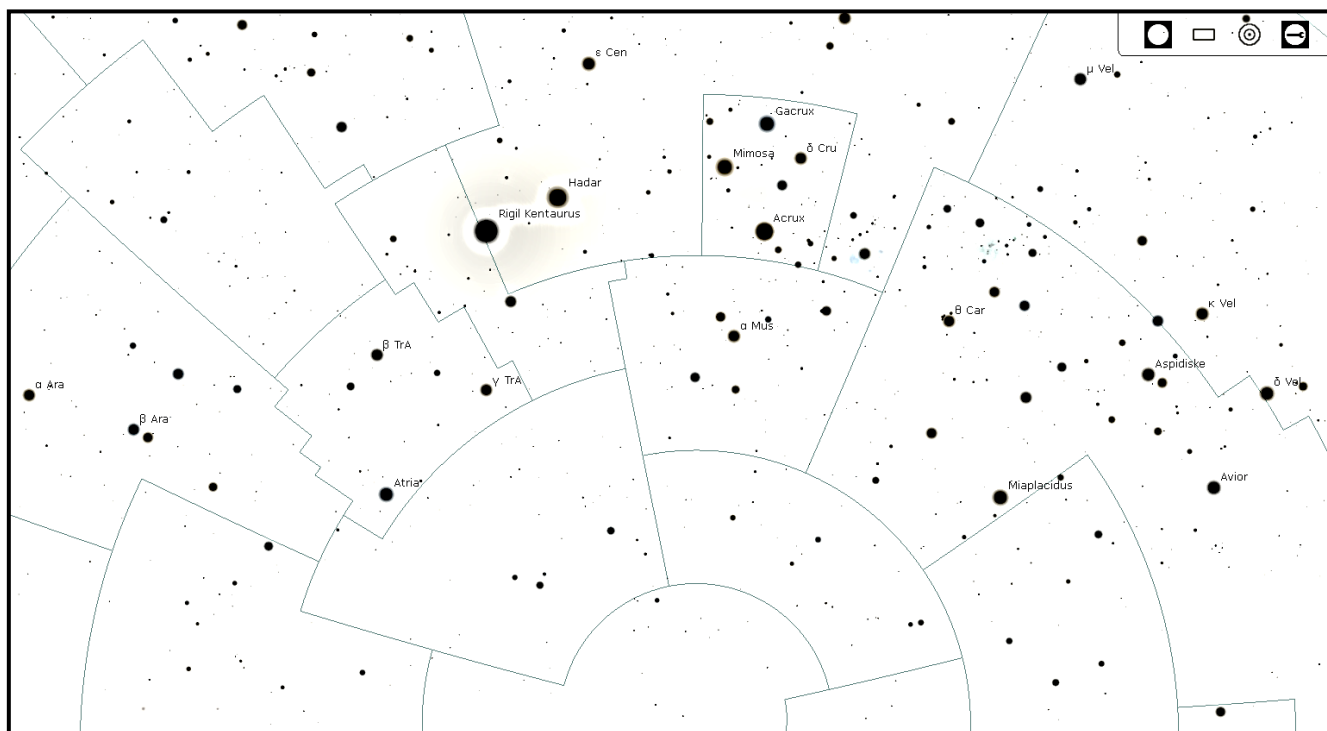
Pergunta 5b) (0,5 ponto) Calcule quantas vezes a massa da estrela Trappist-1, M_T , é menor do que a do Sol, M_S , isto é, faça $\frac{M_T}{M_S}$.

Resolução 5b):

Resposta 5b):.....

5b) - Nota obtida: _____

Questão 6) (1 ponto) (0,25 cada acerto) A figura abaixo mostra uma parte do céu, tal como é visto no dia 19/05/17 às 21h23min. As “bolinhas” pretas são estrelas e quanto maior a “bolinha”, mais brilhante é a estrela. As linhas delimitam áreas no céu, que chamamos de constelações. Tudo que está na direção daquela área pertence àquela constelação.



Pergunta 6a) No Hemisfério Norte, bem próximo do Polo Celeste Norte existe a estrela Polar. Localize, aproximadamente, o Polo Celeste Sul na figura acima: prolongue, para baixo, 4,5 vezes a distância entre a estrela mais brilhante da Constelação do Cruzeiro do Sul e a terceira mais brilhante desta constelação. Faça um **X** no local do Polo Celeste Sul. Em torno deste ponto “gira o céu”.

6a) - Nota obtida: _____

Pergunta 6b) Desenhe sobre a figura acima, a área da constelação do Cruzeiro do Sul, onde ela estava, aproximadamente, 3h antes.

6b) - Nota obtida: _____

Pergunta 6c) O Planeta extrassolar mais próximo à Terra orbita a estrela Próxima Centauro, a qual fica no sistema triplo que contém a estrela Alfa (a mais brilhante) da constelação do Centauro, a qual “envolve” a constelação do Cruzeiro do Sul. Faça uma seta indicando a Alfa do Centauro (→).

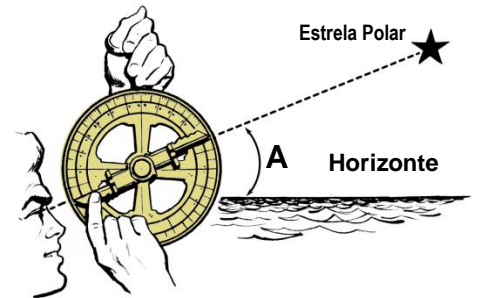
6c) - Nota obtida: _____

Pergunta 6d) Em quantas horas o Cruzeiro do Sul (e todas as demais estrelas) da imagem acima voltará exatamente ao mesmo lugar? Em 24h00min00seg (dia solar) ou em 23h56min04seg (dia sideral)?

Resposta 6d):

6d) - Nota obtida: _____

Questão 7) (1 ponto) Todo ponto na superfície da Terra é localizado por duas coordenadas, a latitude (tem origem no equador terrestre) (ângulo B na figura abaixo) e a longitude (tem origem no meridiano de Greenwich). Numa certa noite o GPS de um navio parou de indicar a latitude local, a qual é necessária para o capitão traçar a rota. O capitão usou o sextante e mediu a elevação (ângulo A) da estrela Polar em relação ao horizonte como indica a imagem ao lado.

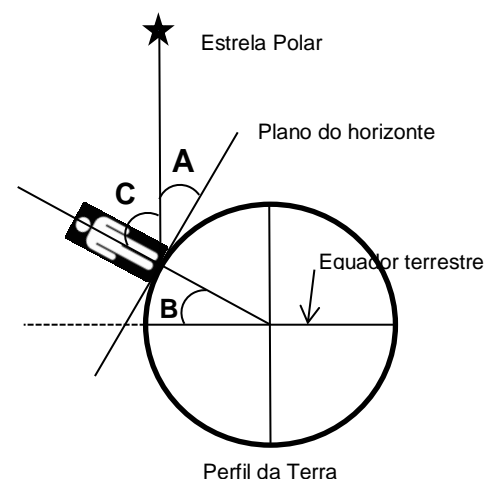


Pergunta 7a) (0,8 ponto) Analise as figuras ao lado e assinale a alternativa abaixo que mostra como o capitão obteve a latitude local, B, através da medida da elevação A da estrela Polar.

- $B = 90^\circ + A$
- $B = 180^\circ - A - C$
- $B = 90^\circ - A$
- $B = 90^\circ + C$
- $B = A$

7a) - Nota obtida: _____

Pergunta 7b) (0,2 ponto) Faça um **X** no local onde está o zênite do “capitão” mostrado na figura ao lado.



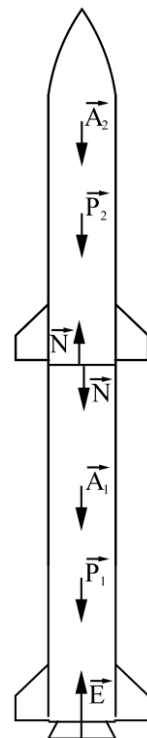
7b) - Nota obtida: _____

AQUI COMEÇAM AS QUESTÕES DE ASTRONÁUTICA

Questão 8) (1 ponto) O VSB-30 é um foguete brasileiro, desenvolvido pelo Instituto de Aeronáutica e Espaço (IAE), capaz de levar cargas úteis ao espaço. É a queima do propelente (mistura de combustível e oxidante) que fornece o empuxo necessário para levar a carga útil ao apogeu de 250 km. A massa total do VSB-30 é de 2.850 kg, sendo 1.650 kg de propelente. O 1º estágio funciona por 12 segundos. O acionamento do motor

do 2º estágio ocorre aos 15 segundos de voo. É durante esses 3 segundos que o motor do 1º estágio separa-se do motor do 2º estágio, caindo no mar.

Durante o voo de propulsão do VSB-30, três forças atuam sobre o foguete: Peso (**P**), Empuxo (**E**), e Arrasto (**A**). A força P resulta da ação da gravidade. A força E resulta da 3ª Lei de Newton, ou seja, a expulsão dos gases expelidos pelo motor em funcionamento faz com que o foguete se mova em sentido oposto. Finalmente tem-se o arrasto, que resulta da interação do foguete com a atmosfera terrestre.

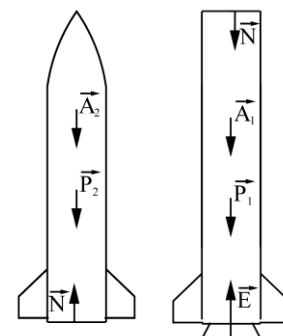


Pergunta 8a) (0,5 ponto) Aos 6 segundos de voo o VSB-30 encontra-se a 1 km de altitude, voando verticalmente à velocidade de 1.000 km/h. Considerando-se que nesse instante a massa total do VSB-30 é 2.500 kg, $E = 103.000 \text{ N}$ e $A = 3.000 \text{ N}$, utilize a 2ª Lei de Newton ($F = m \times a$) para calcular a aceleração do VSB-30 neste instante. Considere $g = 10 \text{ m/s}^2$. Obs. Registre abaixo suas contas; sem elas o resultado não é aceito.

Resposta 8a):.....

8a) - Nota obtida: _____

Pergunta 8b) (0,25 ponto) A parte superior do 1º estágio do VSB-30 é encaixada na parte inferior do 2º estágio. Algo similar ao encaixe de uma caneta esferográfica no interior de sua tampa. O que mantém o 1º e o 2º estágios juntos é o balanço das forças atuantes sobre cada estágio, incluindo a força de contato representada pelo vetor **N** nas figuras ao lado. A_1 e A_2 , P_1 e P_2 representam as forças de arrasto e as forças peso atuantes sobre o 1º e 2º estágios, respectivamente. **E** é a força de empuxo gerada pelo 1º estágio. Aos 11 segundos do voo vertical ascendente do VSB-30 o 1º e 2º estágio ainda estão acoplados e $A_1 = 2.000 \text{ N}$, $A_2 = 8.000 \text{ N}$ e $E = 10.000 \text{ N}$. Nesse instante, as massas do 1º e 2º estágios são $M_1 = 350 \text{ kg}$ e $M_2 = 1.800 \text{ kg}$, respectivamente. Calcule o valor da força de contato N nesse instante do voo vertical. Registre abaixo suas contas; sem elas o resultado não é aceito.



2º estágio 1º estágio

8b) - Nota obtida: _____

Resposta 8b):.....

Pergunta 8c) (0,25 ponto) Aos 12 segundos de voo o VSB-30 continua voando na direção vertical e o motor do 1º estágio está na sua fase final de queima produzindo apenas um empuxo residual. A partir do momento em que a força de contato N anular-se, terá início a separação entre o 1º e 2º estágios. Utilizando o conhecimento acumulado nos dois itens acima, determine o valor de E nesse instante. Registre abaixo suas contas; sem elas o resultado não é aceito.

Resposta 8c):.....

8c) - Nota obtida: _____

Questão 9) (1 ponto) Em 2017 foi lançado o Satélite Geoestacionário de Defesa e Comunicações Estratégicas (SGDC). O SGDC foi contratado pelo Governo do Brasil à Visiona Tecnologia Espacial, empresa nacional situada em São José dos Campos, SP. O SGDC situa-se no plano equatorial da Terra, distante 35.800 km da sua superfície. A essa grande distância ele gira em torno da Terra com a mesma velocidade com que a Terra gira em torno do seu eixo. Portanto, tudo se passa como se o SGDC estivesse parado em relação a um ponto fixo da superfície terrestre. O SGDC está “estacionado” a 75° de longitude Oeste.

Muito embora a transmissão de TV seja a principal aplicação dos satélites geoestacionários, novas tecnologias permitem sua utilização para transmissão de sinais de Internet, que exigem, dentre outras coisas, maior potência quando comparados aos de TV. Para receber e enviar sinais (ondas eletromagnéticas) o SGDC é dotado de diversas antenas, algumas operando na banda X (de 7 a 8 GHz, Giga Hertz = 10^9 Hz) e várias na banda Ka (de 17 a 30 GHz). Enquanto a banda X é utilizada para as comunicações militares (telefonía, dados, voz e imagem) a banda Ka é utilizada para Internet.

Ao invés de utilizar um único “feixe” (Figura A), o SGDC projeta 67 feixes em banda Ka, com cerca de 500 km de diâmetro cada. Para simplificar, apenas alguns desses feixes são mostrados na Figura B. Dessa forma, a potência do sinal recebida por cada uma dessas regiões é muito superior àquela que seria recebida caso o satélite transmitisse fazendo uso de um único feixe. É exatamente esta tecnologia de múltiplos feixes que permite o uso do SGDC para transmissão de Internet. Em solo haverá grandes antenas direcionadas para os satélites. Elas são denominadas Gateways, sendo representadas por pequenos círculos pretos na Figura B, nos feixes 15, 24, 33, 36 e 44.



Figura A

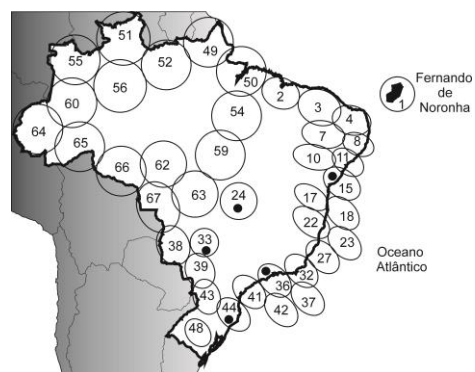


Figura B

Pergunta 9) (0,2 cada acerto) Com base nessas informações escreva C (Certo) ou E (Errado) em cada uma das afirmações abaixo:

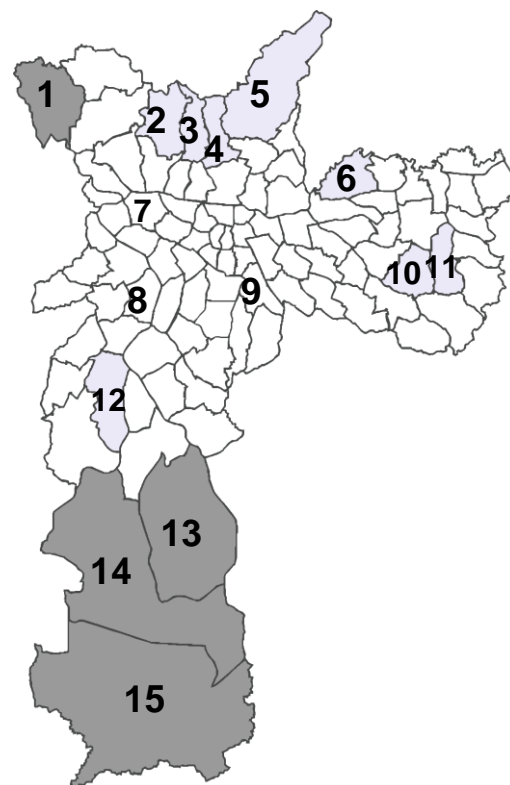
- () Um mesmo satélite pode efetuar transmissão de dados, voz, imagens e Internet.
- () A Ilha de Fernando de Noronha não está na área de cobertura do SGDC.
- () Uma embarcação brasileira no Atlântico, fora da região de cobertura em banda Ka do satélite SGDC, pode usufruir da conexão de dados banda-larga provida por esse satélite.
- () Supondo-se que a taxa de transmissão de dados do SGDC para um determinado usuário é de 5 Mbps (Megabit por segundo), o download de um arquivo de 50 MB (MB → MegaByte = 10^6 Byte , sendo 1 Byte = 8 bits) levará 10 segundos.
- () Os feixes 41, 42, 36, 32, 37, 27, 23 e 18 têm parte ou totalidade de sua área de cobertura sobre o mar. Dessa forma, embarcações e plataformas de petróleo situadas nessas áreas podem fazer uso do SGDC para conexão via Internet.

9) - Nota obtida: _____

Questão 10) (1 ponto) A temperatura interfere nas diferentes fases do desenvolvimento do mosquito *Aedes Aegypti*, incluindo o seu nascimento, proliferação e tempo de vida. Imagens de satélite fornecem as temperaturas em diferentes regiões da Terra, constituindo-se assim em um importante recurso para o monitoramento de regiões cujas temperaturas sejam favoráveis à reprodução e infestação do mosquito. A figura representa uma imagem (simplificada) de satélite da cidade de São Paulo e a legenda indica a faixa de temperatura em cada uma das 15 regiões avaliadas.

Cor da Região Identificada	Faixa de Temperatura (°C)
	22 - 26
	27 - 29
	30 - 32

Pergunta 10a) (0,5 ponto) A Secretaria Municipal de Saúde considera que a faixa de temperatura ideal para a proliferação do *Aedes Aegypti* encontra-se entre 30° e 32°C. Baseado nesse critério, quais regiões [(cinza escuro – áreas: 1, 13, 14, 15), (cinza claro – áreas: 2, 3, 4, 5, 6, 10, 11, 12) e (branca – áreas: 7, 8, 9)] numeradas no mapa deveriam ser objeto de ação dos agentes de saúde para eliminar possíveis focos do *Aedes Aegypti*? Obs. Basta indicar a cor da região (ou das regiões)



Resposta 10a)

10a) - Nota obtida: _____

Pergunta 10b) (0,5 ponto) Outros estudos científicos consideram que a faixa de temperatura ideal para a proliferação do *Aedes Aegypti* é entre 28° e 31°C. Baseado nesse critério, em quais regiões [(cinza escuro – áreas: 1, 13, 14, 15), (cinza claro – áreas: 2, 3, 4, 5, 6, 10, 11, 12) e (branca – áreas: 7, 8, 9)] deveriam ser mobilizados agentes de saúde para eliminar possíveis focos do *Aedes Aegypti*? Obs. Basta indicar a cor da região (ou das regiões).

Resposta 10b)

10b) - Nota obtida: _____